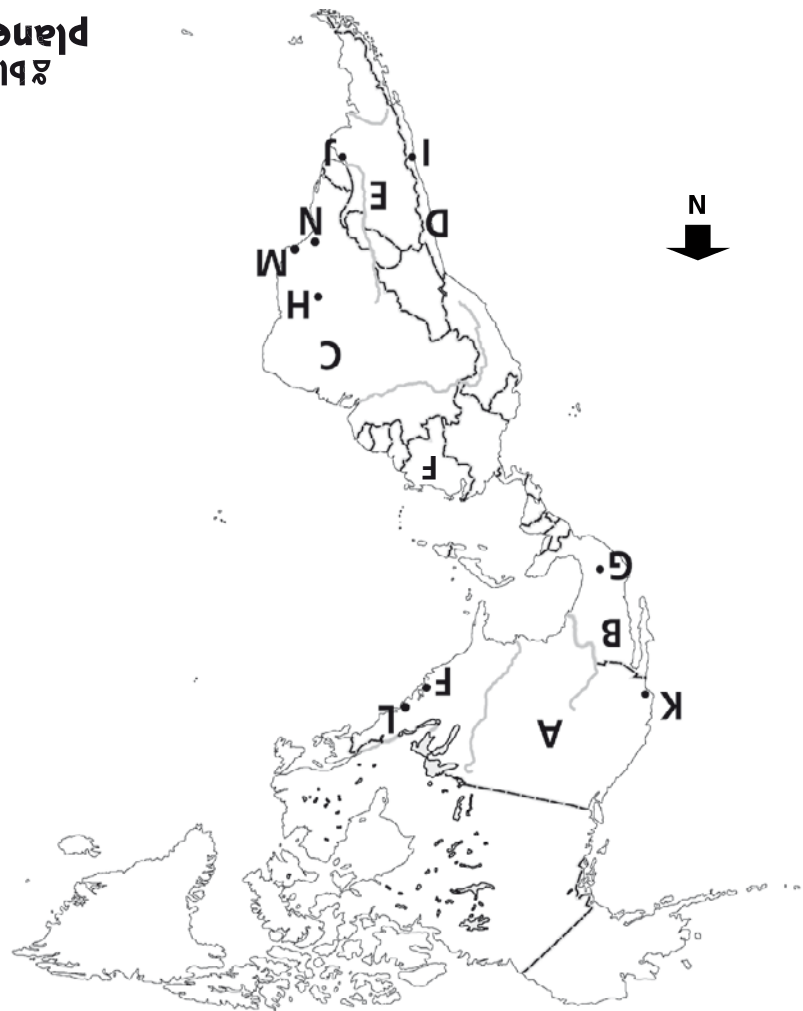


- 1** Noem de letters A t/m G en zeg welk werelddeel het is.
A = Noord-Amerika, B = Europa, C = Azië, D = Zuid-Amerika, E = Afrika, F = Australië, G = Zuidpool/Antarctica

Noem de letters H t/m J en zeg welke oceaan het is.
H = de Grote Oceaan (Stille Oceaan), I = de Atlantische Oceaan, J = de Indische Oceaan

- 2** In welk werelddeel ligt Siberië? *in Azië*
- 3** Welk werelddeel ligt ten westen van de Indische Oceaan? *Afrika*
- 4** Welke oceaan ligt tussen Noord-Amerika en Europa? *de Atlantische Oceaan*
- 5** Welk gebied ligt tussen Afrika en Azië in? *het Midden-Oosten*
- 6** Welk werelddeel ligt het dichtst bij de Noordpool? Europa of Zuid-Amerika?
Europa
- 7** Welk werelddeel ligt het dichtst bij Antarctica? Afrika of Azië? *Afrika*
- 8** Welke twee oceanen grenzen aan elkaar in het zuiden van Zuid-Amerika?
de Grote Oceaan en de Atlantische Oceaan



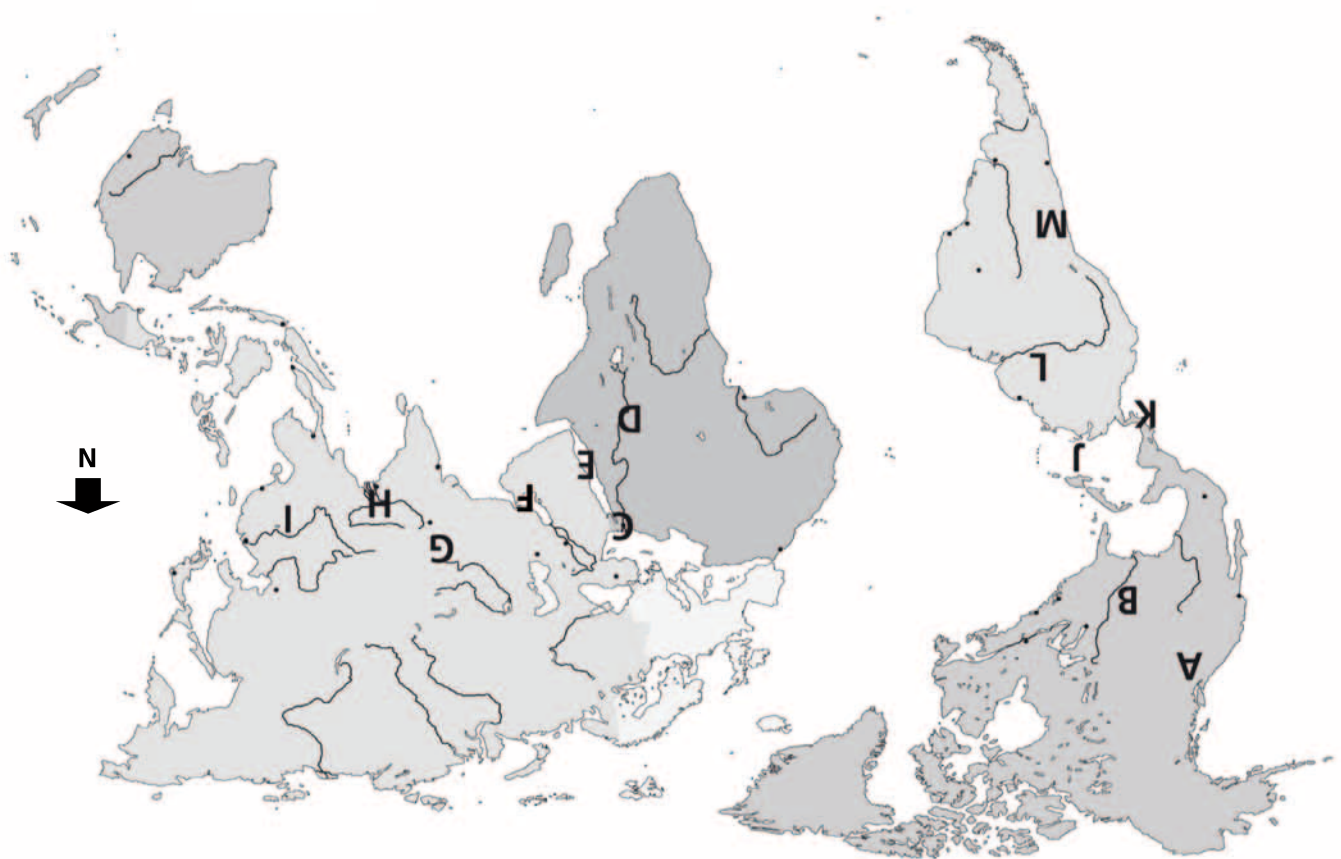
- 1** Noem de letters A t/m F en zeg welk land het is. Zeg ook wat de hoofdstad van dat land is.
A = de Verenigde Staten, hoofdstad: Washington (F); B = Mexico, hoofdstad: Mexico-Stad (G); C = Brazilië, hoofdstad: Brasilia (H); D = Chili, hoofdstad: Santiago (I); E = Argentinië, hoofdstad: Buenos Aires (J), F = Venezuela
- 2** Noem de letters K t/m N en zeg welke stad het is.
K = Los Angeles, L = New York, M = Rio de Janeiro, N = São Paulo
- 3** Welke plaats ligt het dichtst bij New York? Washington of Los Angeles? *Washington*
- 4** Welke stad in Brazilië ligt het noordelijkst? Brasilia of São Paulo? *Brasilia*
- 5** Welk land ligt ten noorden van Argentinië? *Brazilië*
- 6** Welk land grenst aan de Verenigde Staten in het zuiden? *Mexico*
- 7** Welke plaats op de kaart passeer je als je vliegt van Rio de Janeiro naar Mexico-Stad?
Brasilia (letter H)
- 8** Welke plaats passeer je als je reist van Buenos Aires naar Rio de Janeiro?
São Paulo (letter N)



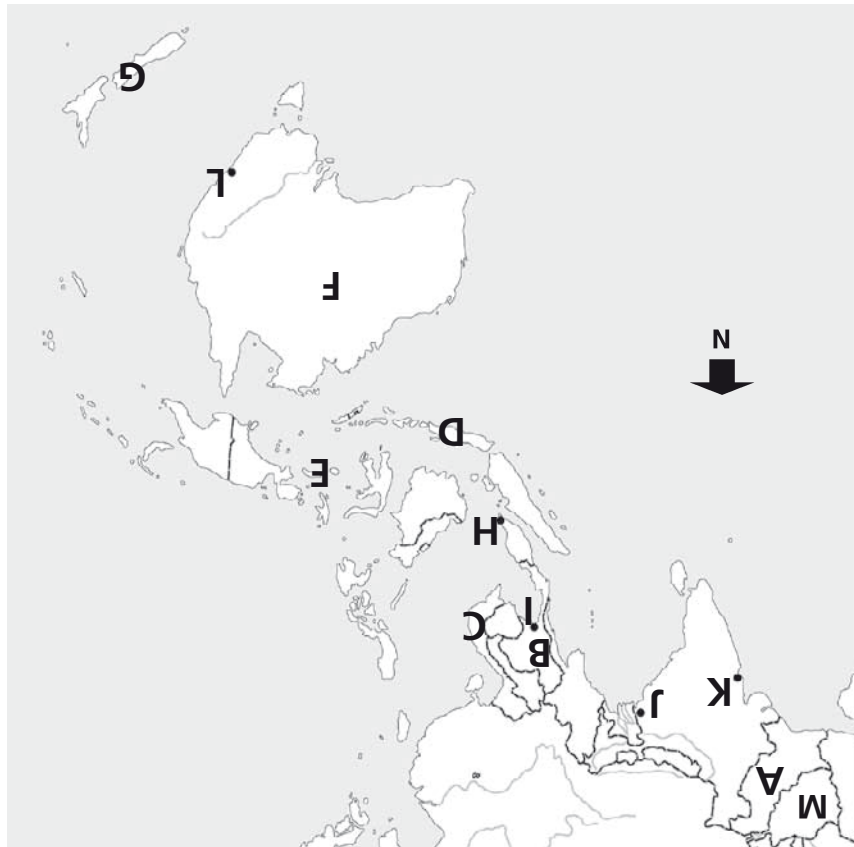
- 1** Noem de letters A t/m I en zeg welk land het is.
A = Marokko, B = Egypte, C = Israël, D = Saudi-Arabië, E = Irak, F = Iran, G = Nigeria, H = Ethiopië, I = Sudan
 Noem de letters J t/m P en zeg welke plaats het is.
J = Casablanca, K = Cairo, L = Jeruzalem, M = Mekka, N = Bagdad, O = Teheran, P = Lagos
 Hoe heet het gebied met de letter Q? *de Sahara*
- 2** Welk land ligt in Afrika? Nigeria of Irak? *Nigeria*
- 3** Welke plaats ligt ten zuiden van de Sahara? Lagos of Casablanca? *Lagos (letter P)*
- 4** Welke plaats op de kaart passeer je als je reist van Jeruzalem naar Teheran?
Bagdad (letter N)
- 5** Welk land grenst aan Egypte? Israël of Marokko? *Israël*
- 6** Welke plaats ligt het dichtst bij Mekka? Bagdad of Lagos? *Bagdad (letter N)*
- 7** Welk land ligt ten zuiden van Egypte? Ethiopië of Iran? *Ethiopië*
- 8** Wanneer passeer je onderweg de Sahara? Als je vanuit Egypte reist naar Marokko of naar Saudi-Arabië? *Marokko*



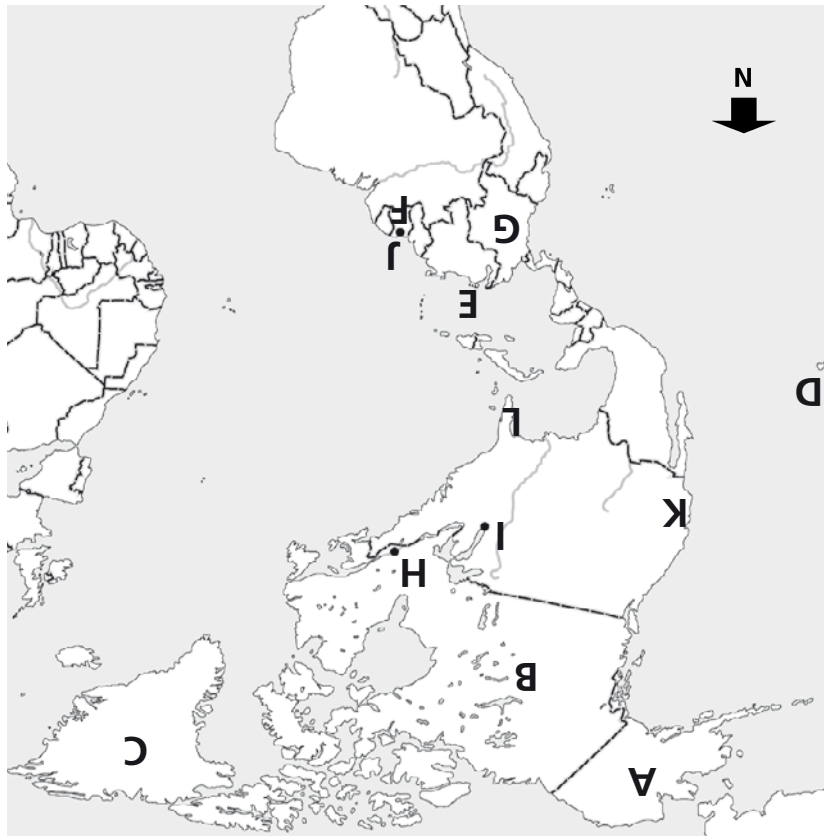
- 1** Noem de letter en zeg welk land of welke plaats het is.
A = China, B = Zuid-Korea, C = Japan, D = India, E = Bangladesh, F = Taiwan, G = Indonesië, H = Beijing (Peking), I = Seoul, J = Tokyo, K = Shanghai, L = Delhi, M = Hongkong, N = Jakarta
- 2** In welk land ligt Delhi? *in India*
- 3** Welk land grenst aan China? India of Indonesië? *India*
- 4** Welke plaats ligt het noordelijkst? Hongkong of Delhi? *Delhi (letter L)*
- 5** Welk eiland ligt het zuidelijkst? Japan of Taiwan? *Taiwan*
- 6** Welke plaats op de kaart passeer je als je reist van Beijing naar Tokyo? *Seoul (letter I)*
- 7** Welke stad ligt het dichtst bij Zuid-Korea? Shanghai of Jakarta?
Shanghai (letter K)
- 8** Welk land ligt ten westen van Bangladesh? *India*



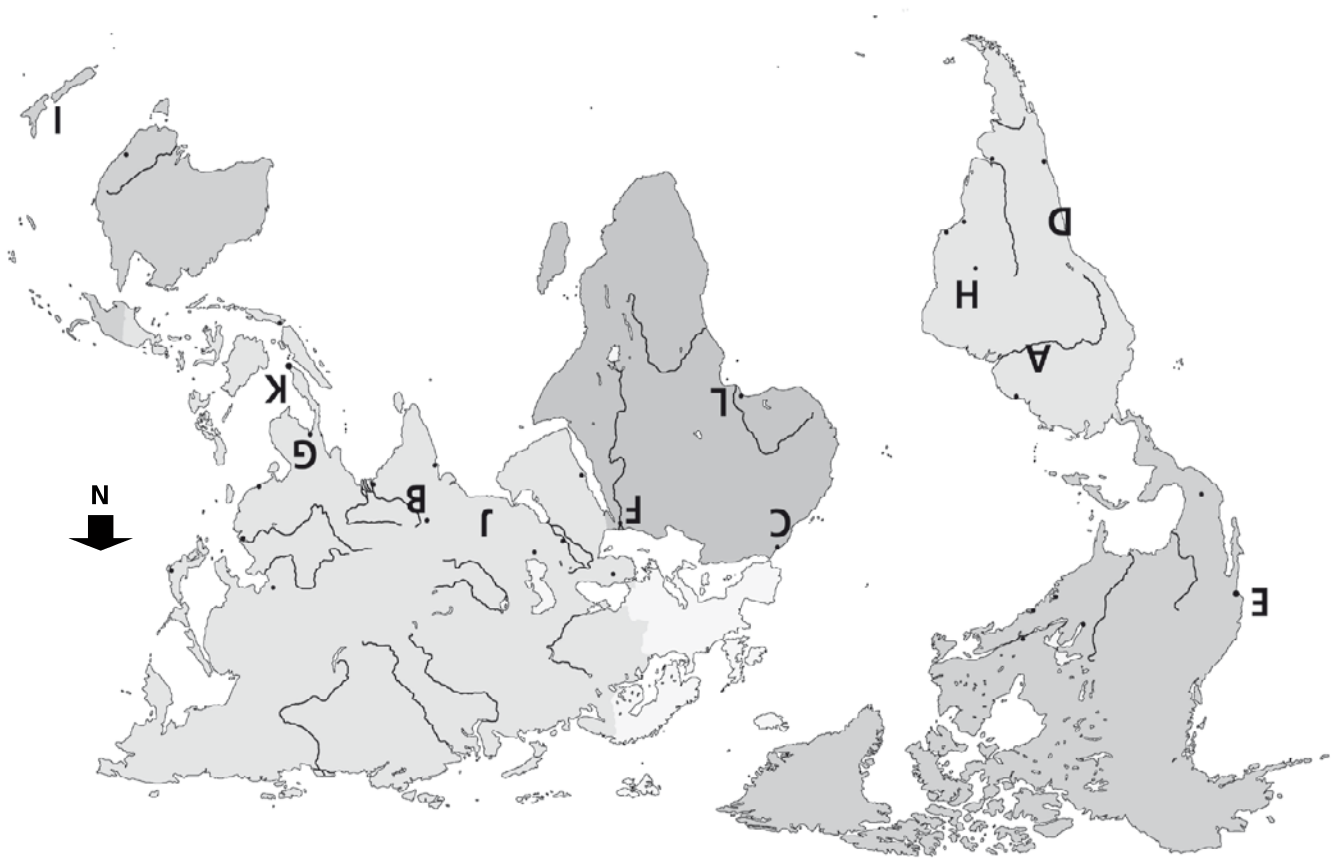
- 1** Noem de letter en zeg welk gebergte of welk water het is.
A = de Rocky Mountains, B = de Mississippi, C = het Suezkanaal, D = de Nijl, E = de Rode Zee, F = de Perzische Golf, G = de Himalaya, H = de Ganges, I = de Chang Jiang, J = de Caribische Zee, K = het Panamakanaal, L = de Amazone, M = de Andes
- 2** Op welk water komt het Suezkanaal uit? De Rode Zee of de Perzische Golf?
de Rode Zee (letter E)
- 3** Welk kanaal ligt het dichtst bij de Nijl? Het Suezkanaal of het Panamakanaal?
het Suezkanaal (letter C)
- 4** Uit welk gebergte krijgt de Chang Jiang water? De Rocky Mountains of de Himalaya?
de Himalaya (letter G)
- 5** Welke rivier krijgt water uit de Rocky Mountains? *de Mississippi (letter B)*
- 6** Uit welk gebergte komt het water van de Ganges? *de Himalaya (letter G)*
- 7** Welk kanaal komt uit op de Caribische Zee? *het Panamakanaal (letter K)*
- 8** Welke rivier op de kaart krijgt veel water uit het Andesgebergte?
de Amazone (letter L)



- 1** Noem de letter en zeg welk land, welk eiland of welke stad het is.
*A = Pakistan, B = Thailand, C = Vietnam, D = Java, E = Molukken, F = Australië,
G = Nieuw-Zeeland, H = Singapore, I = Bangkok, J = Kolkata, K = Mumbai, L = Sydney,
M = Afghanistan*
- 2** In welk land ligt Sydney? *Australië*
- 3** Welke plaats op de kaart ligt ten zuiden van Bangkok? Kolkata of Singapore?
Singapore (letter H)
- 4** Over welk land ga je als je vliegt van Pakistan naar Java? Thailand of Australië?
Thailand
- 5** Welk land ligt het verst van Nieuw-Zeeland? Thailand of Pakistan? *Pakistan*
- 6** Welke eilandengroep ligt ten oosten van Java? *de Molukken*
- 7** Welke plaats op de kaart passeer je als je reist van Mumbai naar Bangkok?
Kolkata (letter J)
- 8** Welk land ligt ten oosten van Thailand? Vietnam of Pakistan? *Vietnam*



- 1** Noem de letter en zeg wat het is.
A = Alaska, B = Canada, C = Groenland, D = Hawaii, E = de Nederlandse Antillen, F = Suriname, G = Colombia, H = Montréal, I = Chicago, J = Paramaribo, K = Californië, L = Florida
- 2** In welk land ligt Paramaribo? *Suriname*
- 3** Hoe heet het grootste eiland van de Nederlandse Antillen? *Curaçao*
- 4** Welke plaats ligt in Canada? Chicago of Montréal? *Montréal (letter H)*
- 5** Welk land grenst aan Alaska? *Canada*
- 6** Welk eiland ligt ten oosten van Canada? *Groenland*
- 7** Welke staat ligt in het oosten van de Verenigde Staten? Florida of Californië? *Florida*
- 8** Welk land grenst aan Midden-Amerika? Colombia of Suriname? *Colombia*



Voor alle vragen geldt: noem de naam en de letter!

- 1 In welk werelddeel ligt de rivier de Amazone? in Zuid-Amerika (A)
 En de Ganges? in Azië (B)
- 2 Welk land grenst aan de Sahara? Marokko of Australië? Marokko (C)
- 3 Welk gebergte ligt in Chili? De Andes of de Himalaya? de Andes (D)
- 4 Welke plaats ligt het dichtst bij Mexico? Los Angeles of Brasilia? Los Angeles (E)
- 5 Aan welke rivier ligt Cairo? de Nijl (F)
- 6 Over welk land vlieg je als je reist van India naar Vietnam? Thailand of Japan?
 Thailand (G)
- 7 Welk land ligt aan de Atlantische Oceaan? Brazilië of Chili? Brazilië (H)
- 8 Welk land ligt het verst van Nederland? Nieuw-Zeeland of Suriname? Nieuw-Zeeland (I)
- 9 Welk land grenst aan India? Pakistan of Japan? Pakistan (J)
- 10 Welke plaats ligt dicht bij Indonesië? Singapore of Tokyo? Singapore (K)
- 11 Welk land ligt aan de Atlantische Oceaan? Nigeria of Egypte? Nigeria (L)